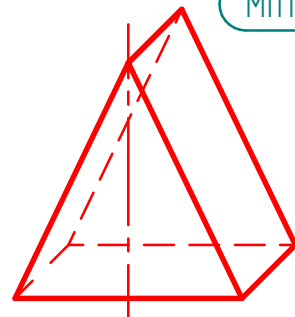
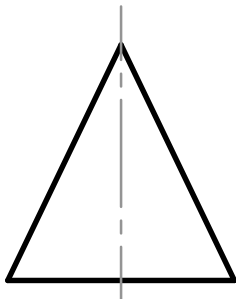
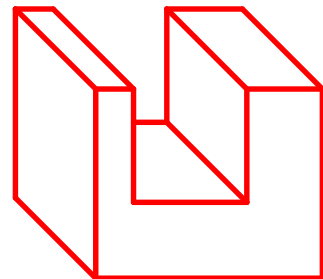
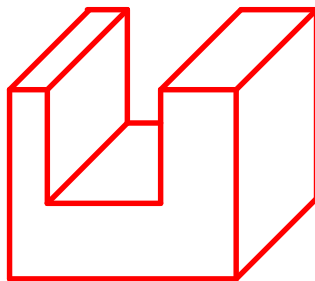
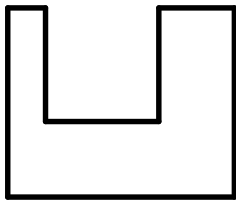
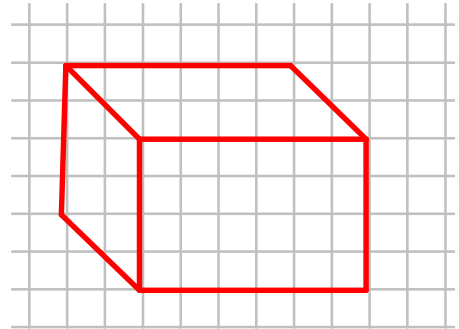
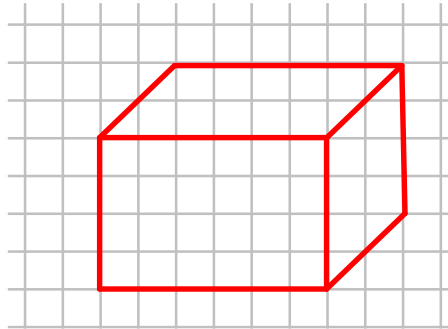


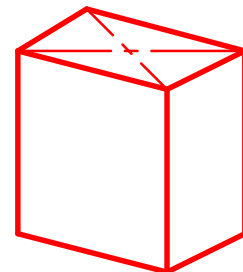
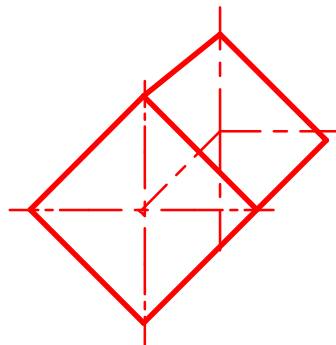
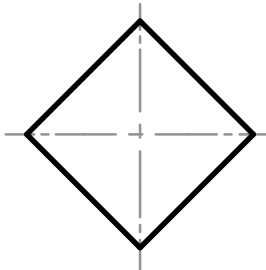
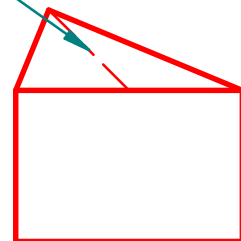
Aufgabe:

Aus zweidimensionalen Flächen können mit Hilfe der Kabinettprojektion Raumbilder (math.: Schrägbilder) gezeichnet werden. Die nach hinten führenden Kanten werden unter einem Winkel von 45° gezeichnet und um die Hälfte verkürzt.

Übe anhand der gegebenen Beispiele. Wähle die Tiefenmaße selbst. (Karo-Rasterpapier unterlegen)



Mittellinie 45° / verkürzt



Grundlagen des technischen Zeichnens

Raumbilder skizzieren

Nr.



AB 241 - 04

Datum:

Name:

Kl.