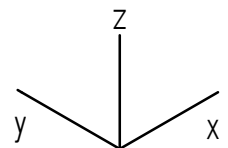
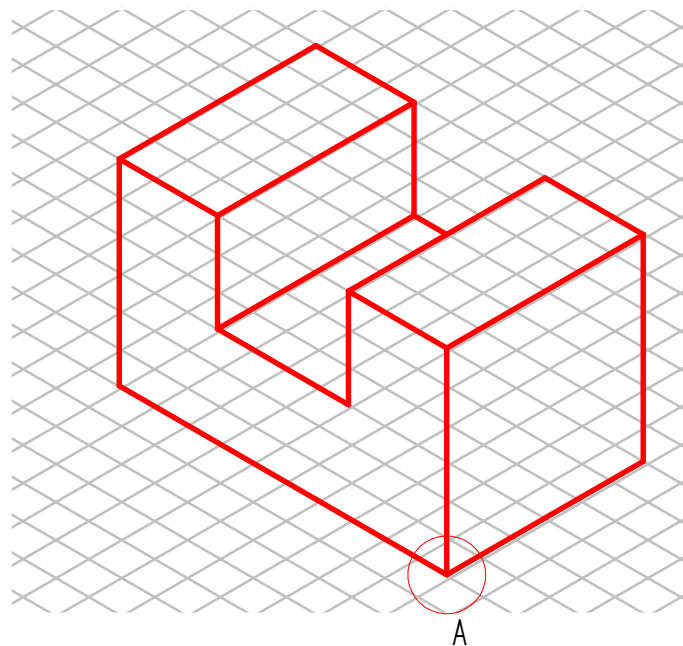
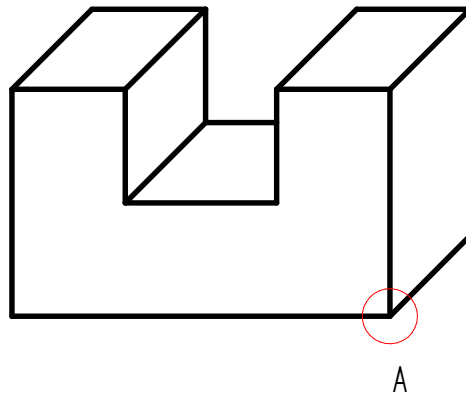


Aufgabe:

Gegeben ist ein Quader mit Nut in Kabinettprojektion. Stelle ihn als isometrisches Raumbild dar. Die Isometrie wird unverkürzt mit jeweils einem Winkel von 30° nach hinten gezeichnet. (Iso-Rasterpapier unterlegen)



Grundlagen des technischen Zeichnens

Isometrische Raumbildskizze -1

Nr.



AB 241 - 05

Datum:

Name:

Kl.