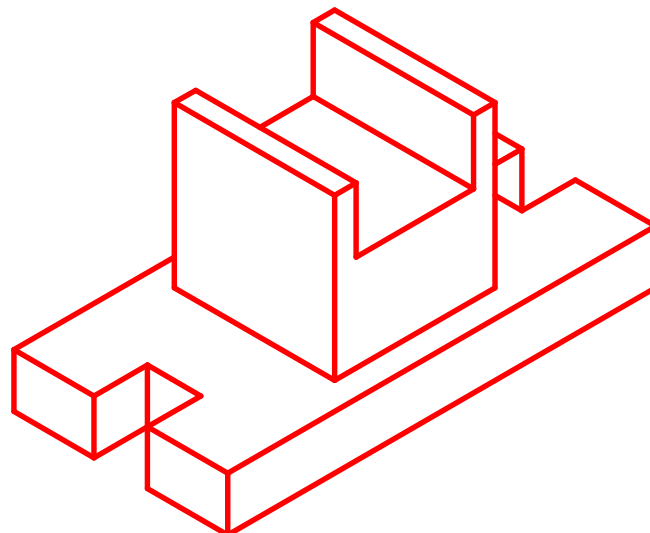
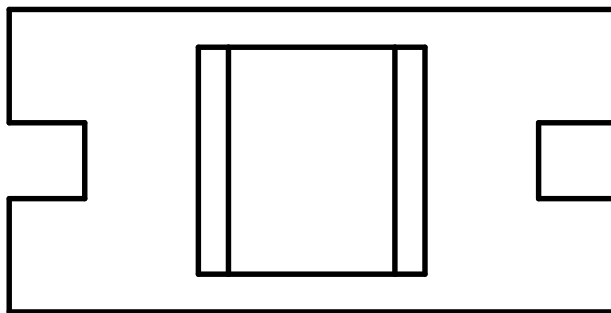
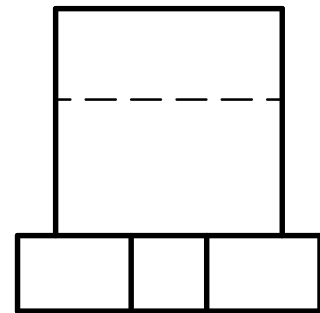
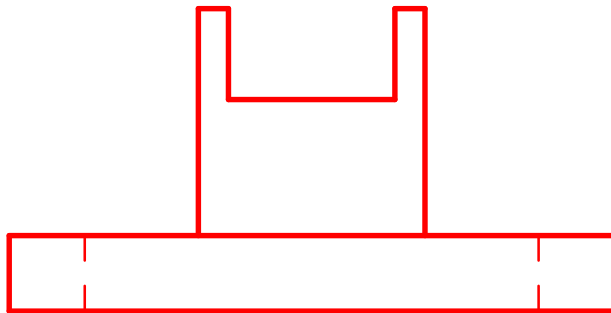



Aufgabe:

Ein Werkstück besteht aus mehreren Grundkörpern und Veränderungen. Beschreibe und analysiere die Aufgabe. Ergänze die fehlende Vorderansicht und skizziere ein isometrisches Raumbild.

(Zeichenplatte verwenden oder Karo-Rasterpapier unterlegen, für die Isometrie Iso-Raster)



Grundlagen des technischen Zeichnens	Komplexe Werkstücke	Nr.
 AB 241 - 12	Datum: Name:	Kl.