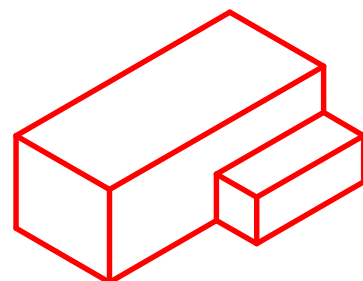
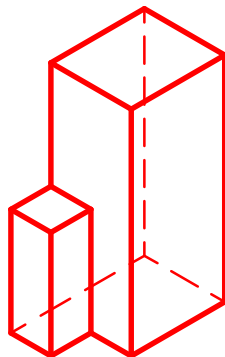
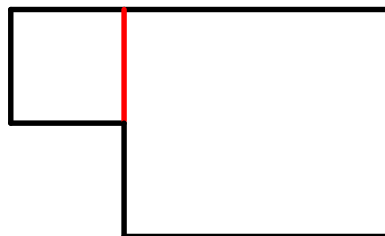
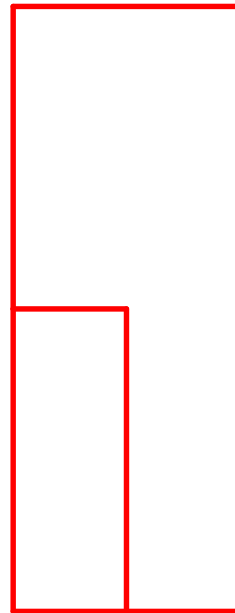
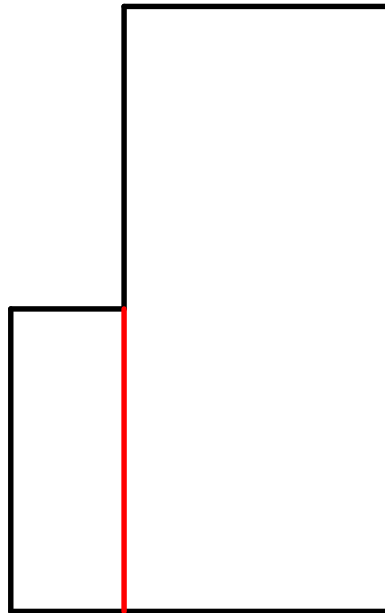


Aufgabe:

Gegeben sind zwei unvollständige Ansichten eines Holzmodells. Ergänze die fehlenden Kanten im Dreitafelbild und skizziere Raumbilder in verschiedenen Lagen.

(Zeichenplatte verwenden oder Karo-Rasterpapier unterlegen, Raumbilder als Freihandskizzen)



Grundlagen des technischen Zeichnens

Holzmodell -1

Nr.



AB 241 - 14

Datum:

Name:

Kl.