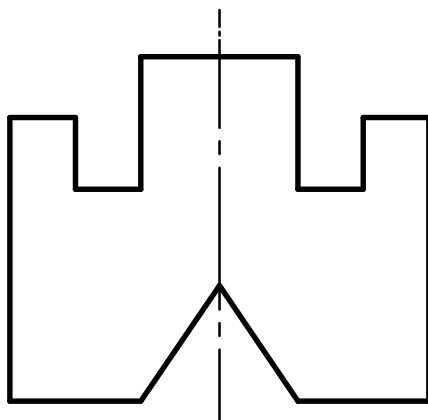
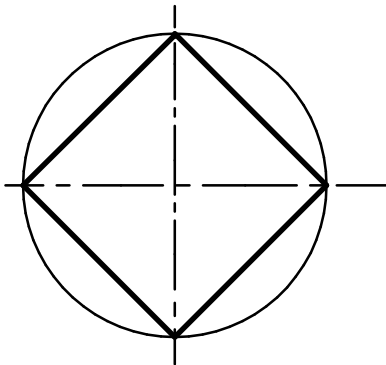
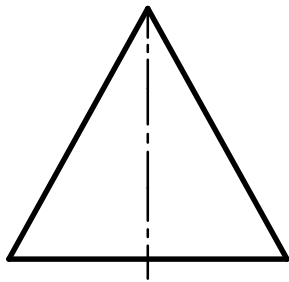
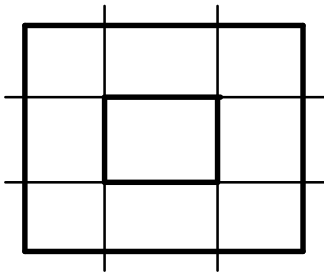



**Aufgabe:**

Aus Linienzügen entstehen Flächen, die als Quadrate, Rechtecke, Polygone, Kreise oder Ellipsen vielfältige 2D-Objekte ergeben.

Übe anhand der gegebenen Beispiele. (Karo-Rasterpapier unterlegen)



Grundlagen des technischen Zeichnens		Flächen zeichnen	Nr.
 AB 241 - 03	Datum:	Name:	Kl.