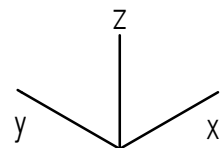
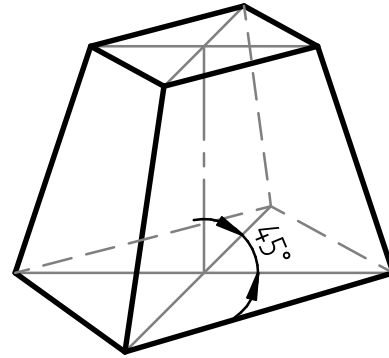
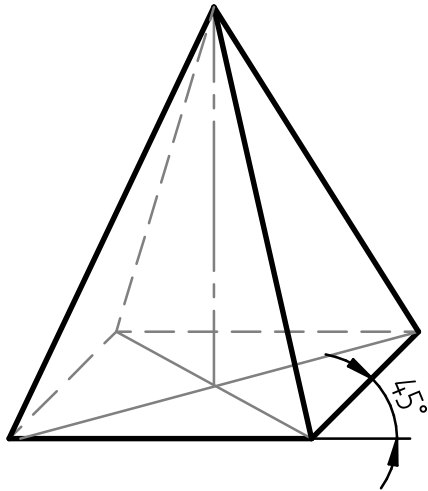


Aufgabe:

Gegeben sind Pyramide und Pyramidenstumpf in Kabinettprojektion.
Stelle sie als isometrische Raumbilder dar.

(Iso-Rasterpapier unterlegen)



Grundlagen des technischen Zeichnens

Pyramidenkörper

Nr.



AB 241 - 08

Datum:

Name:

Kl.