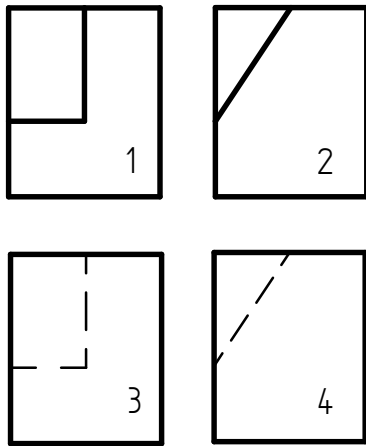


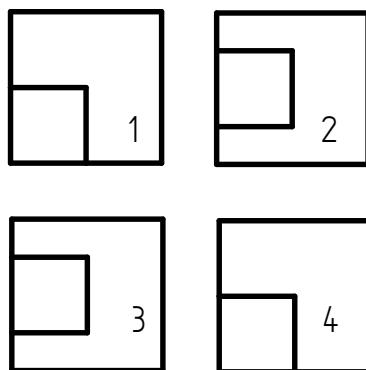
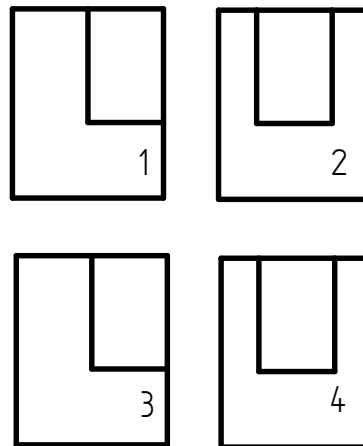
Aufgabe:

Ordne die Ansichten richtig zu, so dass sie zu vier verschiedenen Körpern passen.
Beachte die Mehrdeutigkeit von Ansichten! Skizziere die vier Raumbilder.
(Für die Raumbildskizzen kann das Iso-Raster untergelegt werden.)

Vorderansichten



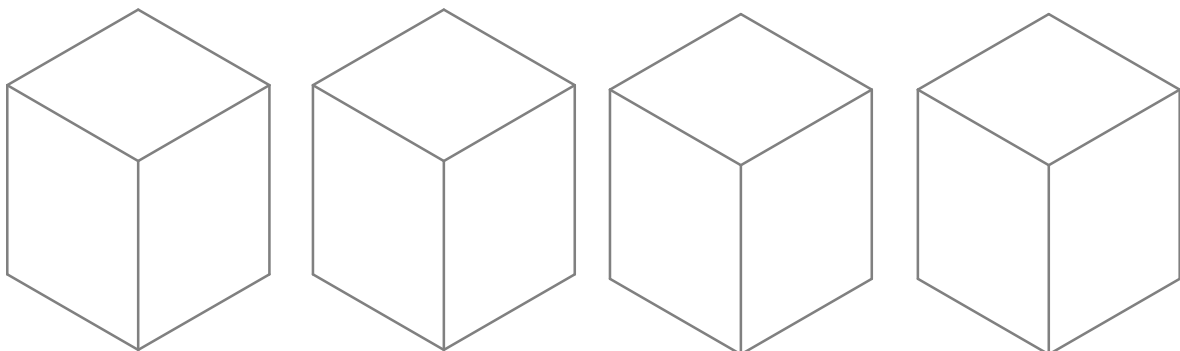
Seitenansichten



Ordne richtig zu

V				
D				
S				

Draufsichten



Grundlagen des technischen Zeichnens

Zuordnungsaufgabe

Nr.



AB 241 - 13

Datum:

Name:

Kl.