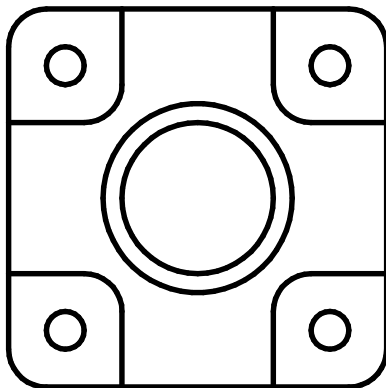
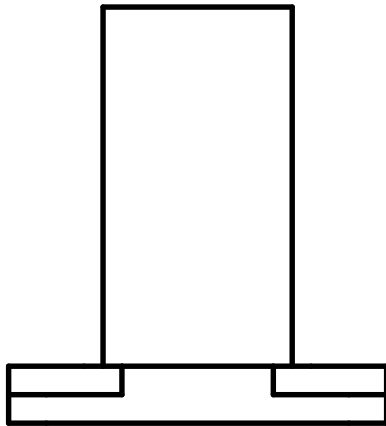



Aufgabe:

Gegeben ist ein unvollständiger Flanschanschluss.

Ergänze das Zweitafelbild als Werkzeichnung und skizziere Raumbilder. Erzeuge ein 3D-Modell.



Normgerechtes Konstruieren		Werkzeichnung -4	Nr.
 AB 243 - 16	Datum:	Name:	Kl.