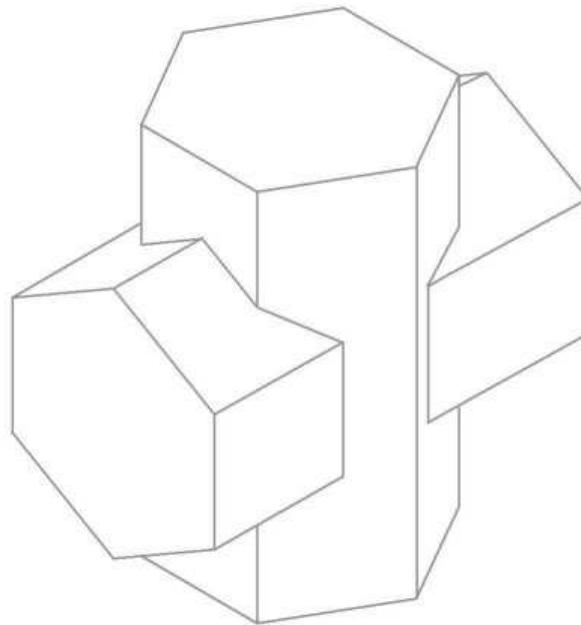


Aufgabe:

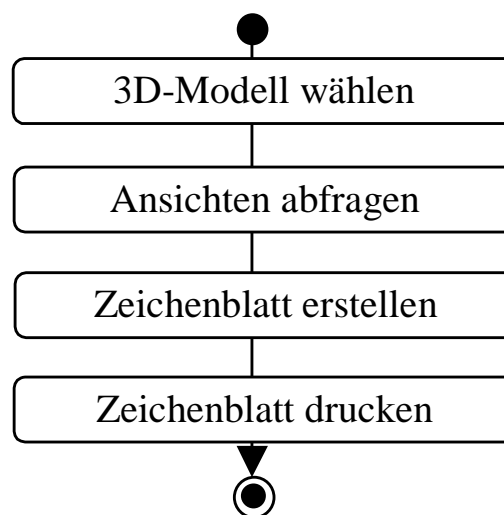
Gegeben ist eine Sechskantprismendurchdringung


Vervollständige die fehlenden Ansichten und erzeuge ein 3D-Modell als Steckung.

Raumbildskizze
(Lösungsvorschlag)



Aktivitätsdiagramm zur Ableitung eines Dreitafelbildes 3D - 2D
(Lösungsvorschlag)



Durchdringungskörper und 3D-Baugruppen		Prismendurchdringung - 2	Nr.
 AB 244 - 10	Datum:	Name:	Kl.